

時間と時刻のまとめ[3]

きまりと1日の生活の答え

1 にあてはまる時間に関する単位や数を書きましょう。

① 昨日は夏休みの宿題を30 しました。

② 昨日は8 ねむりました。

③ 50m走るのにかかる時間は10 でした。


④ 1分は 秒なので、2分は 秒になります。

⑤ 1日は 時間で、1時間は 分です。

⑥ 1日の中の午前と午後はどちらも 時間ずつです。


2 それぞれの文を読み午前・午後の単位をつけてわたしの時間を答えましょう。
時計に短針・長針も書きましょう。

① 学校へ行くのに家をでる時間



(例)
午前7時45分

② 学校に着く時間



(例)
午前8時15分

3 上の問題で答えた時間を使って答えましょう。

家をでる時間から学校に着くまでの間の時間はどれだけですか。


(例) 30分

時間と時刻こくのまとめ[3]

時間の読み問題もんだいの答え


1 つぎの時計を見て 何時何分か 答えましょう。

①



[5 時 28 分]


②



[9 時 49 分]

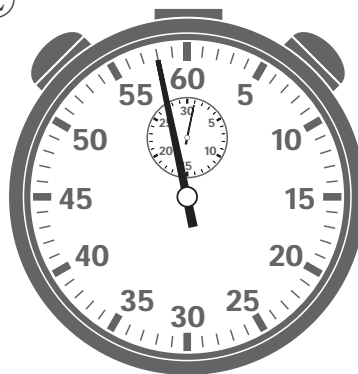
2 びょうしん 秒針が1周で60秒 しゅう 分針が1周で30分のストップウォッチがあります。
はり 針の位置に いち 注意して ちゅうい それぞれ時間を答えましょう。

①



[39 びょう 秒]

②



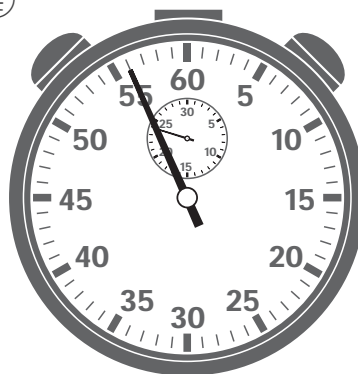
[58 びょう 秒]

③



[16 分 36 びょう 秒]

④



[23 分 56 びょう 秒]

時間と時刻こくのまとめ[3]

時間の換算・長さくら比べの答え

1 にあてはまる数を書きましょう。

① 93分 = 1 時間 33 分

② 1 時間 57 分 = 117 分

③ 174分 = 2 時間 54 分

④ 3 時間 45 分 = 225 分

⑤ 379分 = 6 時間 19 分

⑥ 8 時間 41 分 = 521 分

⑦ 75 秒 = 1 分 15 秒

⑧ 1 分 57 秒 = 117 秒

⑨ 155 秒 = 2 分 35 秒

⑩ 3 分 51 秒 = 231 秒

⑪ 472 秒 = 7 分 52 秒

⑫ 9 分 24 秒 = 564 秒

2 ①から⑫の時間を短い順みじか じゆん ならに並びかえ記号ごうで答えましょう。

① ① 180分 ② 60分 ③ 2時間 ④ 1時間30分

[② → ④ → ③ → ①]

② ① 1分30秒 ② 110秒 ③ 55秒 ④ 2分

[③ → ① → ② → ④]

時間と時刻こくのまとめ[3]

2つの時刻こくの間を答えるの答え

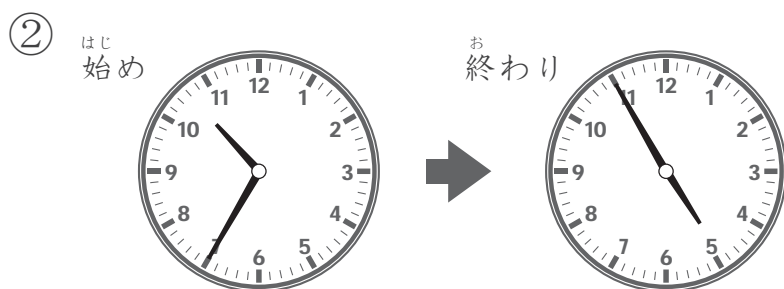
問 はじはじ 始めの時刻こくから おお 終わりの時刻こくまでの時間を それぞれ答えましょう。



[午前 2 時 50 分]

[午前 8 時 20 分]

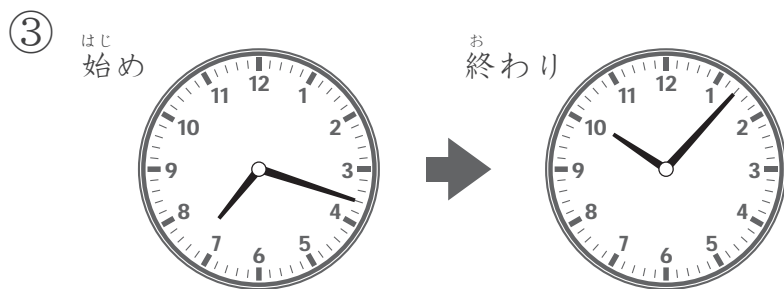
答え 5 時間 30 分



[午前 10 時 35 分]

[午後 4 時 55 分]

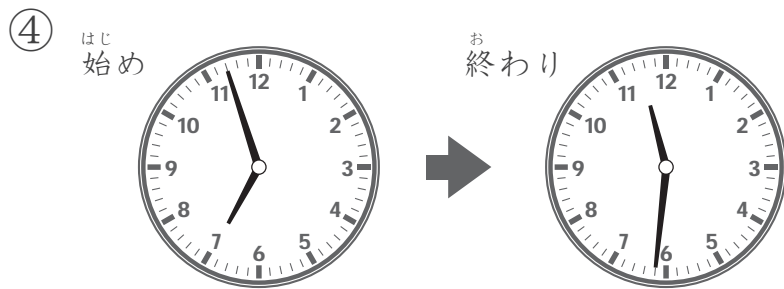
答え 6 時間 20 分



[午後 7 時 18 分]

[午後 10 時 7 分]

答え 2 時間 49 分



[午後 6 時 57 分]

[午後 11 時 31 分]


答え 4 時間 34 分

時間と時刻のまとめ[3]



指定時間 変化後の時刻を答える問題の答え

- 1 それぞれの時計と 矢印の部分にある問題を 読んで答えましょう。
また時計に長針・短針も書き入れましょう。

①




39分前の時間は





[3 時 14 分] [2 時 35 分]

②




55分後の時間は





[8 時 48 分] [9 時 43 分]

③




6時間36分前の時間は





[7 時 23 分] [12 時 47 分]

④



2時間47分後の時間は



[9 時 36 分] [12 時 23 分]

時間と時刻のまとめ[3]

時間と時刻の文章問題[1]の答え

問 文章を読んで答えましょう。

1 昨日は1時間33分勉強しました。今日は75分勉強しました。
昨日は今日よりどれだけ長く勉強していましたか。

[式] $1\text{時間}33\text{分} - 75\text{分} = 18\text{分}$

答え 18分

2 旅行で新幹線に2時間24分、バスに1時間45分乗りました。
新幹線とバスに乗っていた時間は合わせて何時間何分になりますか。

[式] $2\text{時間}24\text{分} + 1\text{時間}45\text{分} = 4\text{時間}9\text{分}$

答え 4時間9分

3 家を午前9時33分にでて、1時間46分後に図書館に着きました。
図書館に着いた時間は何時何分ですか。

[式] $\text{午前}9\text{時}33\text{分} + 1\text{時間}46\text{分} = \text{午前}11\text{時}19\text{分}$

答え 午前11時19分

4 家から飛行場へ行くのに3時間18分かかります。
飛行場に午後1時5分に着きたいです。
家を何時何分にできればちょうど飛行場に到着予定になりますか。

[式] $\text{午後}1\text{時}5\text{分} - 3\text{時間}18\text{分} = \text{午前}9\text{時}47\text{分}$

答え 午前9時47分

時間と時刻のまとめ[3]

時間と時刻の文章問題[2]の答え

問 文章を読んで答えましょう。

1 おかずを電子レンジで1分37秒温めましたが、まだ冷たかったので58秒追加で温めました。合わせてどれだけの時間温めましたか。

$$\begin{aligned} \text{[式]} \quad & 1 \text{分} 37 \text{秒} + 58 \text{秒} = 1 \text{分} 95 \text{秒} \\ & 1 \text{分} 95 \text{秒} = 2 \text{分} 35 \text{秒} \end{aligned}$$

答え 2分35秒

2 百ます計算の目標時間は2分16秒でしたが、今日は目標時間より28秒早くできました。今日百ます計算にかかった時間はどれだけですか。

$$\text{[式]} \quad 2 \text{分} 16 \text{秒} - 28 \text{秒} = 1 \text{分} 48 \text{秒}$$

答え 1分48秒

3 わたしの一番好きな曲の長さは6分14秒です。その次に好きな曲の長さは6分49秒でした。2つの曲の長さを合わせるとどれだけの時間になりますか。

$$\begin{aligned} \text{[式]} \quad & 6 \text{分} 14 \text{秒} + 6 \text{分} 49 \text{秒} = 12 \text{分} 63 \text{秒} \\ & 12 \text{分} 63 \text{秒} = 13 \text{分} 3 \text{秒} \end{aligned}$$

答え 13分3秒

4 友達はマラソン大会で5kmを18分22秒で走りました。ぼくはその友達よりも2分40秒早く走る事ができました。ぼくの走った時間はどれだけですか。

$$\text{[式]} \quad 18 \text{分} 22 \text{秒} - 2 \text{分} 40 \text{秒} = 15 \text{分} 42 \text{秒}$$

答え 15分42秒