


# 時間と時刻こく



指定時間 変化後の時刻を答える問題の答え  
(まとめ)

**問** それぞれの時計と 矢印の部分にある問題を 読んで答えましょう。  
また時計に長針・短針も書き入れましょう。

①




15分前の時間は





[ 8 時 8 分 ] [ 7 時 53 分 ]

②




23分後の時間は





[ 4 時 44 分 ] [ 5 時 7 分 ]

③




2時間前の時間は





[ 9 時 47 分 ] [ 7 時 47 分 ]

④



10時間後の時間は




[ 5 時 20 分 ] [ 3 時 20 分 ]

# 時間と時刻こく



指定時間 変化後の時刻を答える問題の答え  
(まとめ)

**問** それぞれの時計と 矢印の部分にある問題を 読んで答えましょう。  
また時計に長針・短針も書き入れましょう。

①




5時間前の時間は





[ 7 時 21 分 ] [ 2 時 21 分 ]

②




3時間後の時間は





[ 2 時 25 分 ] [ 5 時 25 分 ]

③




1時間32分前の時間は





[ 3 時 38 分 ] [ 2 時 6 分 ]

④



5時間36分後の時間は




[ 12 時 4 分 ] [ 5 時 40 分 ]

# 時間と時刻こく



指定時間 してい 変化後へんかの時刻こくを答える問題もんだいの答え  
(まとめ)

**問** それぞれの時計と 矢印じゆしの部分にある問題もんだいを 読んで答えましょう。  
また時計に長針しん・短針しんも書き入れましょう。

①




31分前の時間は





[ 1 時 37 分 ]                      [ 1 時 6 分 ]

②




4時間後の時間は





[ 11 時 26 分 ]                      [ 3 時 26 分 ]

③




4時間36分前の時間は





[ 6 時 29 分 ]                      [ 1 時 53 分 ]

④



3時間40分後の時間は




[ 10 時 18 分 ]                      [ 1 時 58 分 ]

# 時間と時刻こく

指定時間 変化後の時刻を答える問題の答え  
(まとめ)

**問** それぞれの時計と 矢印の部分にある問題を 読んで答えましょう。  
また時計に長針・短針も書き入れましょう。

①




58分後の時間は





[ 8 時 1 分 ] [ 8 時 59 分 ]

②




8時間前の時間は





[ 4 時 12 分 ] [ 8 時 12 分 ]

③




8時間26分前の時間は





[ 9 時 33 分 ] [ 1 時 7 分 ]

④



7時間43分後の時間は



[ 5 時 42 分 ] [ 1 時 25 分 ]