


時間と時刻こく



指定時間 変化後の時刻を答える問題の答え
(何時間何分前/後の時間を答える)

問 それぞれの時計と 矢印の部分にある問題を 読んで答えましょう。
また時計に長針・短針も書き入れましょう。

①




8時間41分後の時間は





[12 時 9 分] [8 時 50 分]

②




7時間18分前の時間は





[7 時 56 分] [12 時 38 分]

③




4時間26分後の時間は





[11 時 18 分] [3 時 44 分]

④



3時間1分前の時間は




[2 時 27 分] [11 時 26 分]

時間と時刻こく



指定時間 変化後の時刻を答える問題の答え
(何時間何分前/後の時間を答える)

問 それぞれの時計と 矢印の部分にある問題を 読んで答えましょう。
また時計に長針・短針も書き入れましょう。

①




7時間43分後の時間は





[1 時 26 分] [9 時 9 分]

②




8時間4分前の時間は





[3 時 58 分] [7 時 54 分]

③




9時間9分後の時間は





[10 時 50 分] [7 時 59 分]

④



10時間52分前の時間は




[11 時 5 分] [12 時 13 分]

時間と時刻こく



指定時間 変化後の時刻を答える問題の答え
(何時間何分前/後の時間を答える)

問 それぞれの時計と 矢印の部分にある問題を 読んで答えましょう。
また時計に長針・短針も書き入れましょう。

①




10時間35分後の時間は





[8 時 38 分] [7 時 13 分]

②




1時間35分前の時間は





[12 時 3 分] [10 時 28 分]

③




8時間52分後の時間は





[4 時 2 分] [12 時 54 分]

④



11時間16分前の時間は




[10 時 45 分] [11 時 29 分]

時間と時刻こく



指定時間 変化後の時刻を答える問題の答え
(何時間何分前/後の時間を答える)

問 それぞれの時計と 矢印の部分にある問題を 読んで答えましょう。
また時計に長針・短針も書き入れましょう。

①




6時間40分後の時間は





[9 時 16 分] [3 時 56 分]

②




7時間19分前の時間は





[1 時 56 分] [6 時 37 分]

③




11時間32分後の時間は





[5 時 23 分] [4 時 55 分]

④



11時間35分前の時間は



[6 時 20 分] [6 時 45 分]