

時間と時刻

月 日 時 分 ~ 時 分


2つの時刻の間を求め

名前


問 最初の時刻から 終わりの時刻までの時間をそれぞれ答えましょう。

①

はじめ



おわり




[午後 時 分]

[午後 時 分]


答え

②

はじめ



おわり




[午前 時 分]

[午前 時 分]

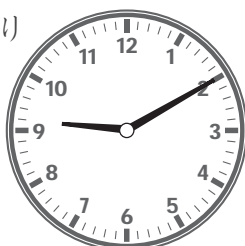
答え

③

はじめ



おわり




[午前 時 分]

[午前 時 分]


答え

④

はじめ



おわり



[午後 時 分]

[午後 時 分]

答え

時間と時刻こく

2つの時刻の間を求めもとる

問 始めはじの時刻こくから 終わりおの時刻こくまでの時間をそれぞれ答えましょう。



[午前 時 分] [午前 時 分] 答え



[午後 時 分] [午後 時 分] 答え



[午前 時 分] [午前 時 分] 答え

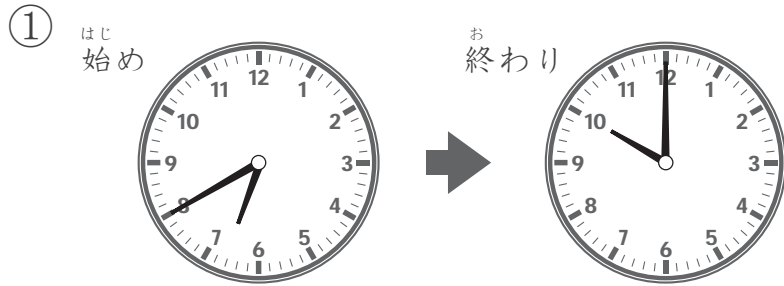


[午後 時 分] [午後 時 分] 答え

時間と時刻こく

2つの時刻の間を求めもとる

問 始めはじの時刻こくから 終わりおの時刻こくまでの時間をそれぞれ答えましょう。



[午後 時 分] [午後 時 分] 答え



[午前 時 分] [午後 時 分] 答え



[午後 時 分] [午後 時 分] 答え



[午前 時 分] [午前 時 分] 答え


時間と時刻こく

2つの時刻の間を求めもとる


問 始めの時刻はじ こくから 終わりの時刻お こくまでの時間をそれぞれ答えましょう。

①

はじ
始め



お
終わり




[午前 時 分]

[午前 時 分]


答え

②

はじ
始め



お
終わり




[午前 時 分]

[午後 時 分]


答え

③

はじ
始め



お
終わり




[午後 時 分]

[午後 時 分]


答え

④

はじ
始め



お
終わり



[午後 時 分]

[午後 時 分]

答え