

時間と時刻

月 日 時 分 ~ 時 分


2つの時刻の間を求め

名前

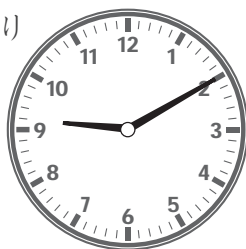
問 最初の時刻から 終わりの時刻までの時間をそれぞれ答えましょう。

①

はじめ



おわり




[午前 時 分]

[午前 時 分]


答え

②

はじめ



おわり




[午前 時 分]

[午前 時 分]


答え

③

はじめ



おわり




[午後 時 分]

[午後 時 分]


答え

④

はじめ



おわり



[午後 時 分]

[午後 時 分]

答え

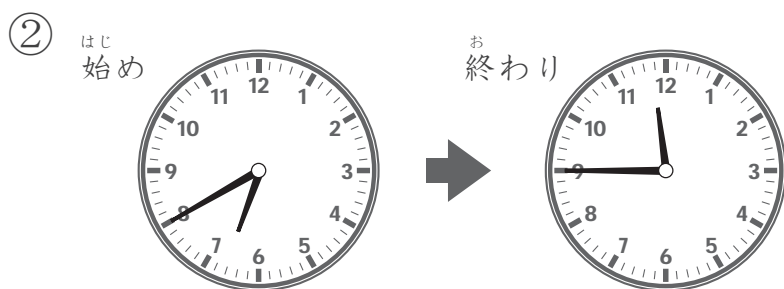
時間と時刻こく

2つの時刻の間を求めもとる

問 始めの時刻こくから 終わりの時刻こくまでの時間を それぞれ答えましょう。



[午前 時 分] [午前 時 分] 答え



[午後 時 分] [午後 時 分] 答え



[午前 時 分] [午前 時 分] 答え





[午後 時 分] [午後 時 分] 答え

時間と時刻こく

2つの時刻の間を求めもとる



問 はじめの時刻から終わりの時刻までの時間をそれぞれ答えましょう。

①

はじめ  →  終わり



[午後 時 分] [午後 時 分] 答え

②

はじめ  →  終わり



[午前 時 分] [午前 時 分] 答え

③

はじめ  →  終わり

[午後 時 分] [午前 時 分] 答え

④

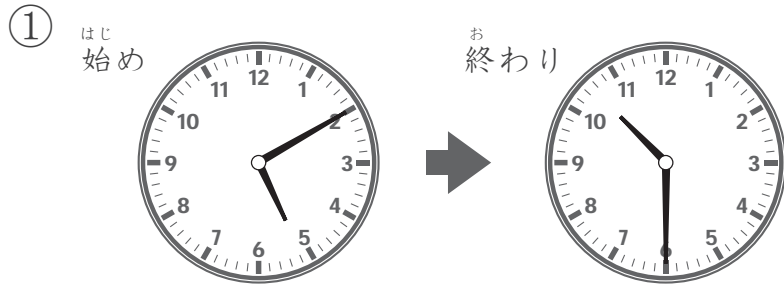
はじめ  →  終わり

[午前 時 分] [午前 時 分] 答え

時間と時刻こく

2つの時刻の間を求めもとる

問 始めの時刻はじから 終わりの時刻おまでの時間をそれぞれ答えましょう。



[午前 時 分]

[午前 時 分]

答え



[午後 時 分]

[午後 時 分]

答え



[午後 時 分]

[午後 時 分]

答え



[午前 時 分]

[午後 時 分]

答え
