

円と球


球のきまり [1]

月 日 時 分 ~ 時 分

名前

1 次の形の中から球をえらんで答えましょう。


①




②



③



④



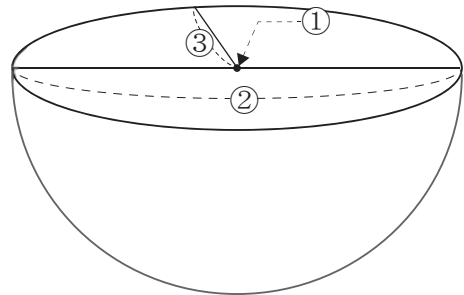
答え

2 球をま二つに切った右の図を見て①~③の名前を答えましょう。

①

②

③



3 にあてはまる言葉や数を書きましょう。

① どこから見ても円に見える形を といいます。

② 球をまっすぐ切った切り口は の形をしています。

③ 球の を通るように球を切ると切り口が一番大きくなります。

④ 球の半径の長さを 倍すると直径になります。