

分数

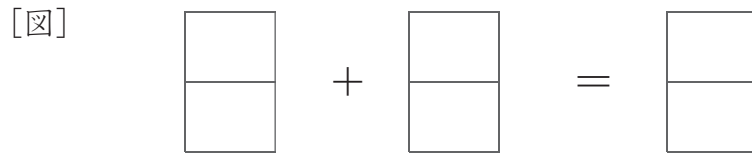
月 日 時 分 ~ 時 分

図で答える分数の足し算

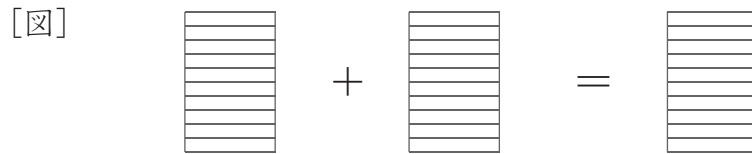
名前

問 分数の計算式にあうように、下の図に色をぬりましょう。

① [計算式] $\frac{1}{2} + \frac{1}{2} = \frac{2}{2} = 1$



② [計算式] $\frac{7}{10} + \frac{2}{10} = \frac{9}{10}$



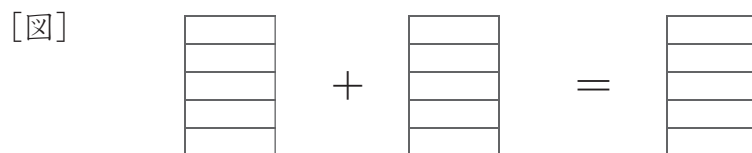
③ [計算式] $\frac{2}{9} + \frac{5}{9} = \frac{8}{9}$



④ [計算式] $\frac{4}{8} + \frac{4}{8} = \frac{8}{8} = 1$



⑤ [計算式] $\frac{2}{5} + \frac{3}{5} = \frac{5}{5} = 1$



分数

図で答える分数の足し算

問 分数の計算式にあうように、下の図に色をぬりましょう。

① [計算式] $\frac{3}{6} + \frac{2}{6} = \frac{5}{6}$



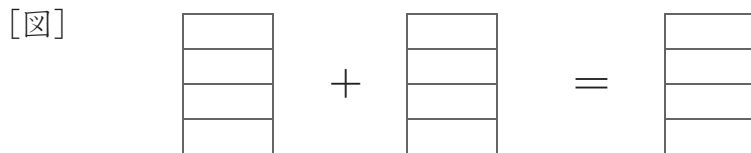
② [計算式] $\frac{3}{7} + \frac{4}{7} = \frac{7}{7} = 1$



③ [計算式] $\frac{8}{9} + \frac{1}{9} = \frac{9}{9} = 1$



④ [計算式] $\frac{1}{4} + \frac{2}{4} = \frac{3}{4}$



⑤ [計算式] $\frac{5}{10} + \frac{5}{10} = \frac{10}{10} = 1$

