

# 時計のがくしゅう

長針と短針を記入する問題


月 日 時 分 ~ 時 分

なまえ


1

時間を読んで、長い針と短い針を書きましょう。


① 3時00分




② 5時30分




③ 7時30分




④ 9時00分



⑤ 11時30分



⑥ 1時00分



# 時計のがくしゅう

長針と短針を記入する問題


月 日 時 分 ~ 時 分

なまえ


1

時間を読んで、長い針と短い針を書きましょう。


① 2時00分




② 4時00分




③ 6時30分




④ 8時30分



⑤ 10時00分



⑥ 12時30分



# 時計のがくしゅう

長針と短針を記入する問題


月 日 時 分 ~ 時 分

なまえ


1

時間を読んで、長い針と短い針を書きましょう。


① 7時00分




② 10時30分




③ 6時00分




④ 2時00分



⑤ 8時30分



⑥ 5時00分



# 時計のがくしゅう

長針と短針を記入する問題


月 日 時 分 ~ 時 分

なまえ


1

時間を読んで、長い針と短い針を書きましょう。


① 11時00分




② 1時30分




③ 12時00分




④ 3時30分



⑤ 9時30分



⑥ 4時00分



# 時計のがくしゅう

長針と短針を記入する問題


月 日 時 分 ~ 時 分

なまえ


1

時間を読んで、長い針と短い針を書きましょう。


① 9時00分




② 2時30分




③ 12時30分




④ 6時30分



⑤ 3時30分



⑥ 10時00分



# 時計のがくしゅう

長針と短針を記入する問題


月 日 時 分 ~ 時 分

なまえ


1

時間を読んで、長い針と短い針を書きましょう。


① 1時00分




② 11時30分




③ 4時30分




④ 8時00分



⑤ 5時30分



⑥ 7時30分



# 時計のがくしゅう


長針と短針を記入する問題

月 日 時 分 ~ 時 分


なまえ

1 時間を読んで、長い針と短い針を書きましょう。


① 5時00分




② 8時30分




③ 1時30分




④ 3時00分



⑤ 10時30分



⑥ 2時00分



# 時計のがくしゅう

長針と短針を記入する問題


月 日 時 分 ~ 時 分

なまえ


1

時間を読んで、長い針と短い針を書きましょう。


① 6時00分




② 7時00分




③ 11時00分




④ 12時00分



⑤ 4時00分



⑥ 9時30分





# 時計のがくしゅう

長針と短針を記入する問題


月 日 時 分 ~ 時 分

なまえ


1

時間を読んで、長い針と短い針を書きましょう。


① 4時30分




② 12時30分




③ 9時00分




④ 1時00分



⑤ 6時30分



⑥ 8時00分



# 時計のがくしゅう

長針と短針を記入する問題


月 日 時 分 ~ 時 分

なまえ


1

時間を読んで、長い針と短い針を書きましょう。


① 10時00分




② 2時30分




③ 5時00分



④ 11時30分



⑤ 7時30分



⑥ 3時30分

