

時計の学習

30分前 30分後の時間は？


が 月 日 時 分 ~ 時 分

名前


1

それぞれの時間を答え、時計のはりも書きましょう。


① 2時13分の30分前は？




② 4時41分の30分後は？




③ 8時37分の30分後は？




④ 12時15分の30分後は？



⑤ 10時28分の30分前は？



⑥ 6時34分の30分前は？



時計の学習

30分前 30分後の時間は？


が 月 日 時 分 ~ 時 分

名前


1

それぞれの時間を答え、時計のはりも書きましょう。


① 11時36分の30分前は？




② 7時24分の30分前は？




③ 5時53分の30分後は？




④ 1時52分の30分後は？



⑤ 3時45分の30分前は？



⑥ 9時55分の30分後は？



時計の学習

30分前 30分後の時間は？


が 月 日 時 分 ~ 時 分

な 名前


1

それぞれの時間を答え、時計のはりも書きましょう。


① 1時24分の30分後は？




② 9時12分の30分前は？




③ 12時43分の30分前は？




④ 5時48分の30分後は？



⑤ 4時24分の30分前は？



⑥ 7時36分の30分後は？



時計の学習


30分前 30分後の時間は？

が 月 日 時 分 ~ 時 分


名前

1 それぞれの時間を答え、時計のはりも書きましょう。


① 8時21分の30分後は？




② 6時18分の30分前は？




③ 2時56分の30分前は？



④ 11時28分の30分後は？



⑤ 10時56分の30分前は？



⑥ 3時39分の30分後は？

