

# 時計の学習


30分前 30分後の時間は？

月 日 時 分 ~ 時 分


名前

1 それぞれの時間を答え、時計のはりも書きましょう。


① 5時30分の30分後は？




② 5時30分の30分前は？




③ 6時00分の30分前は？




④ 7時00分の30分後は？



⑤ 3時30分の30分後は？



⑥ 1時0分の30分前は？



# 時計の学習

30分前 30分後の時間は？


が 月 日 時 分 ~ 時 分

名前


1

それぞれの時間を答え、時計のはりも書きましょう。


① 12時30分の30分前は？




② 6時00分の30分後は？




③ 11時00分の30分後は？




④ 10時30分の30分前は？



⑤ 9時30分の30分後は？



⑥ 7時30分の30分前は？



# 時計の学習

30分前 30分後の時間は？


が 月 日 時 分 ~ 時 分

名前


1

それぞれの時間を答え、時計のはりも書きましょう。


① 2時00分の30分後は？




② 4時30分の30分前は？




③ 6時30分の30分後は？




④ 8時0分の30分前は？



⑤ 11時30分の30分前は？



⑥ 12時00分の30分後は？



# 時計の学習

30分前 30分後の時間は？


が 月 日 時 分 ~ 時 分

名前


1

それぞれの時間を答え、時計のはりも書きましょう。


① 3時00分の30分前は？




② 1時30分の30分後は？




③ 9時00分の30分前は？



④ 8時30分の30分後は？



⑤ 10時00分の30分前は？



⑥ 2時30分の30分後は？

