

# なが 長さ

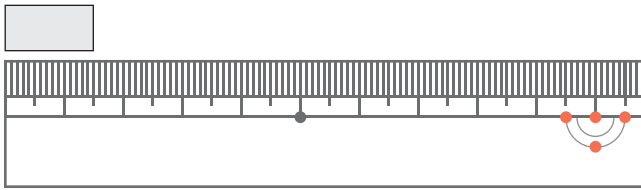
ものさしの読み

が 月 につ 日 に ち じ 時 ぶん 分 ~ じ 時 ぶん 分

なまえ

**1** テープのながさをそれぞれセンチメートルとミリメートルを使って答えましょう。

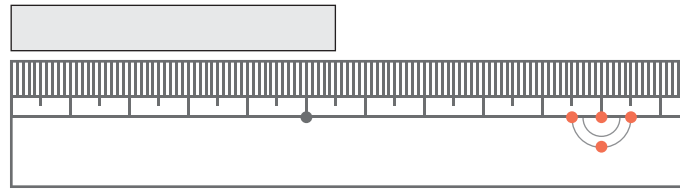
①



(1) \_\_\_\_\_ cm \_\_\_\_\_ mm

(2) \_\_\_\_\_ mm

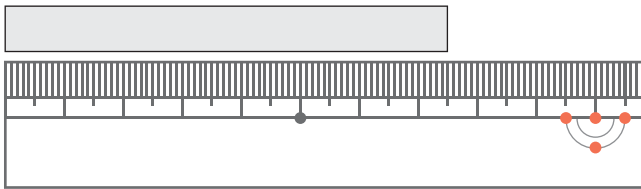
②



(1) \_\_\_\_\_ cm \_\_\_\_\_ mm

(2) \_\_\_\_\_ mm

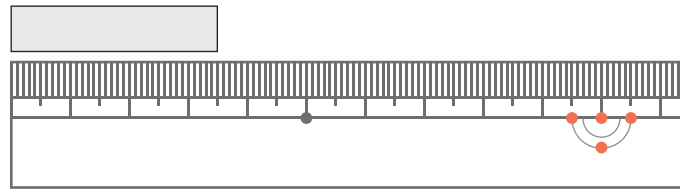
③



(1) \_\_\_\_\_ cm \_\_\_\_\_ mm

(2) \_\_\_\_\_ mm

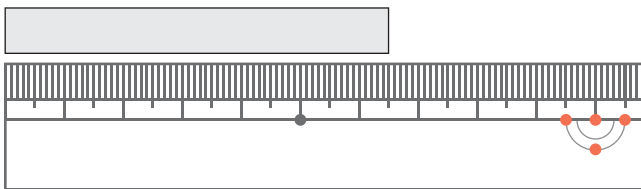
④



(1) \_\_\_\_\_ cm \_\_\_\_\_ mm

(2) \_\_\_\_\_ mm

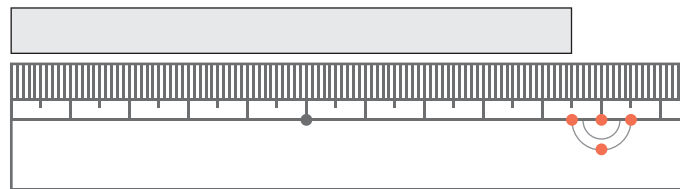
⑤



(1) \_\_\_\_\_ cm \_\_\_\_\_ mm

(2) \_\_\_\_\_ mm

⑥



(1) \_\_\_\_\_ cm \_\_\_\_\_ mm

(2) \_\_\_\_\_ mm

# なが 長さ

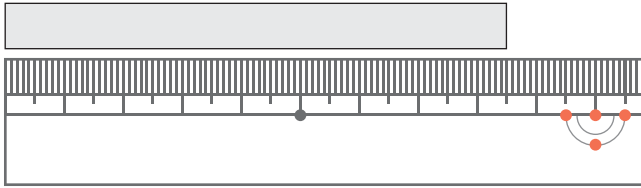
ものさしの読み

が 月 につ 日 に ち じ 時 ぶん 分 ~ じ 時 ぶん 分

なまえ

**1** テープのながさをそれぞれセンチメートルとミリメートルを使って答えましょう。

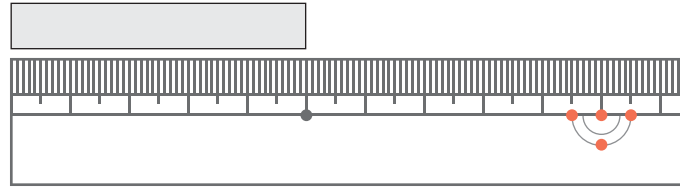
①



(1) \_\_\_\_\_ cm      mm

(2) \_\_\_\_\_ mm

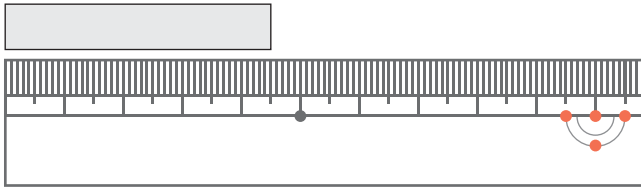
②



(1) \_\_\_\_\_ cm      mm

(2) \_\_\_\_\_ mm

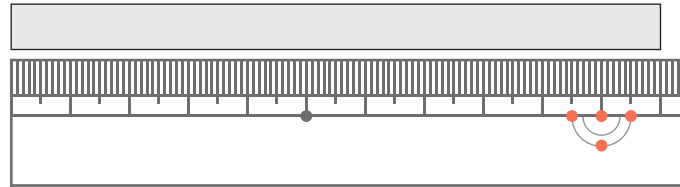
③



(1) \_\_\_\_\_ cm      mm

(2) \_\_\_\_\_ mm

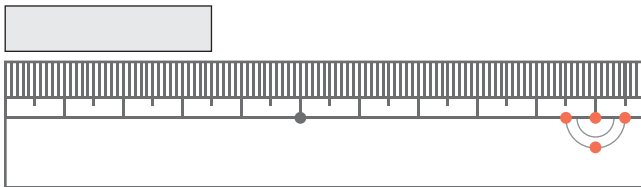
④



(1) \_\_\_\_\_ cm      mm

(2) \_\_\_\_\_ mm

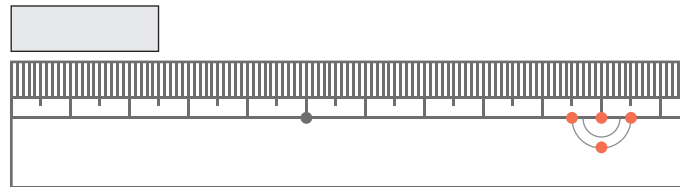
⑤



(1) \_\_\_\_\_ cm      mm

(2) \_\_\_\_\_ mm

⑥



(1) \_\_\_\_\_ cm      mm

(2) \_\_\_\_\_ mm

# なが 長さ

ものさしの読み

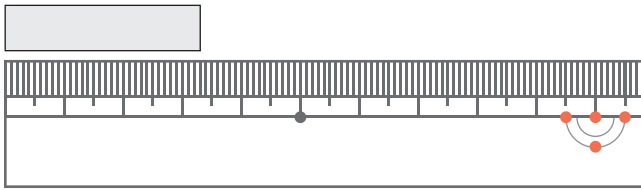
が 月 につ 日 に ち じ 時 ぶん 分 ~ じ 時 ぶん 分

なまえ

1

テープのながさをそれぞれセンチメートルとミリメートルを使って答えましょう。

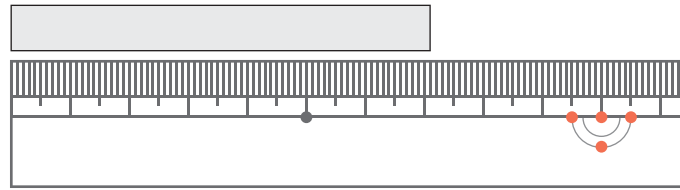
①



(1) \_\_\_\_\_ cm mm

(2) \_\_\_\_\_ mm

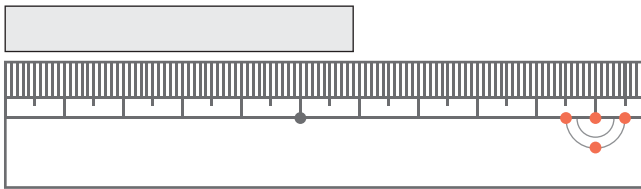
②



(1) \_\_\_\_\_ cm mm

(2) \_\_\_\_\_ mm

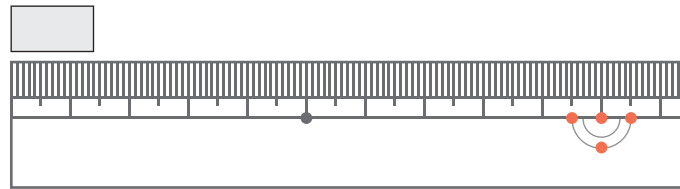
③



(1) \_\_\_\_\_ cm mm

(2) \_\_\_\_\_ mm

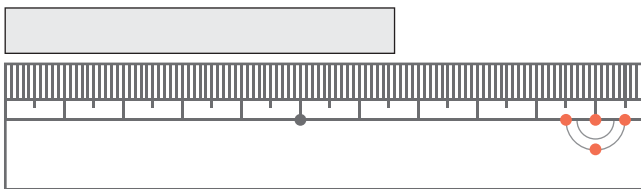
④



(1) \_\_\_\_\_ cm mm

(2) \_\_\_\_\_ mm

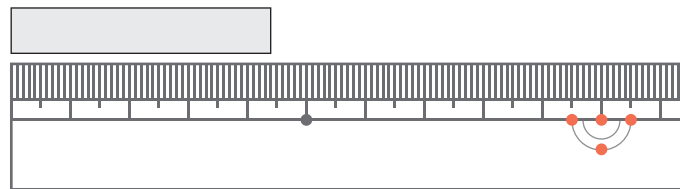
⑤



(1) \_\_\_\_\_ cm mm

(2) \_\_\_\_\_ mm

⑥



(1) \_\_\_\_\_ cm mm

(2) \_\_\_\_\_ mm

# なが 長さ

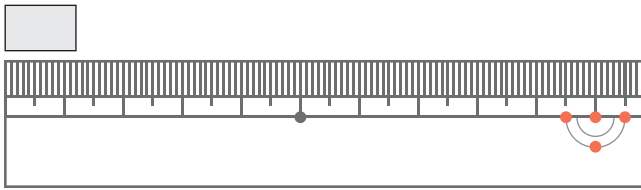
ものさしの読み

が 月 につ 日 に ち じ 時 ぶん 分 ~ じ 時 ぶん 分

なまえ

**1** テープのながさをそれぞれセンチメートルとミリメートルを使って答えましょう。

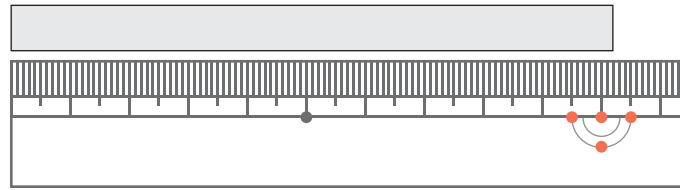
①



(1) \_\_\_\_\_ cm mm

(2) \_\_\_\_\_ mm

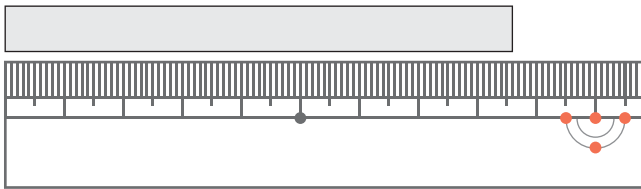
②



(1) \_\_\_\_\_ cm mm

(2) \_\_\_\_\_ mm

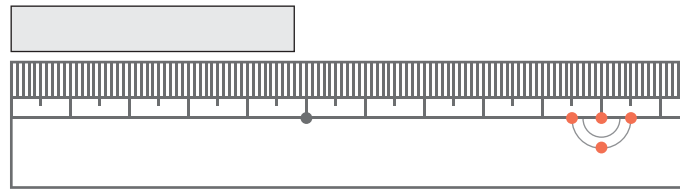
③



(1) \_\_\_\_\_ cm mm

(2) \_\_\_\_\_ mm

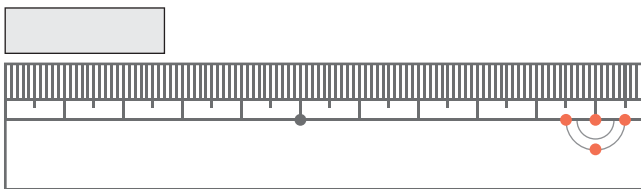
④



(1) \_\_\_\_\_ cm mm

(2) \_\_\_\_\_ mm

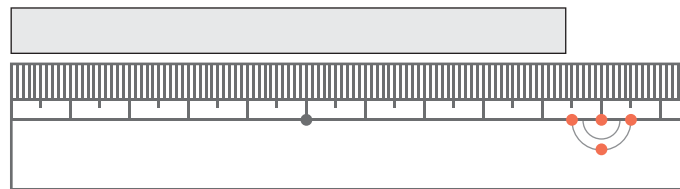
⑤



(1) \_\_\_\_\_ cm mm

(2) \_\_\_\_\_ mm

⑥



(1) \_\_\_\_\_ cm mm

(2) \_\_\_\_\_ mm