

100より大きい数

がつ 月 にち 日 じ 時 ぶん 分 ~ じ 時 ぶん 分

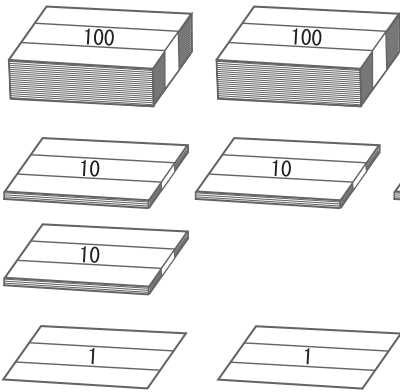
なまえ
名前

問

がようし 画用紙がたくさんあります。ぜんぶ 全部で なん 何まいありますか。

にあてはまる かず 数を書き こと 答えましょう。

1



100のたばが つ (百のくらい)

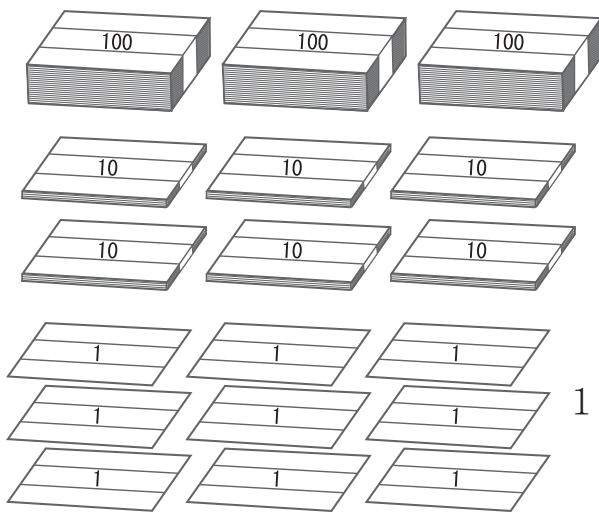
10のたばが つ (十のくらい)

1まいの がようし 画用紙が つ (一のくらい)

(百のくらい) (十のくらい) (一のくらい)

あわせて まい

2



100のたばが つ (百のくらい)

10のたばが つ (十のくらい)

1まいの がようし 画用紙が つ (一のくらい)

(百のくらい) (十のくらい) (一のくらい)

あわせて まい

100より大きい数

が 月 につ 日 に ち じ 時 ぶん 分 ~ じ 時 ぶん 分

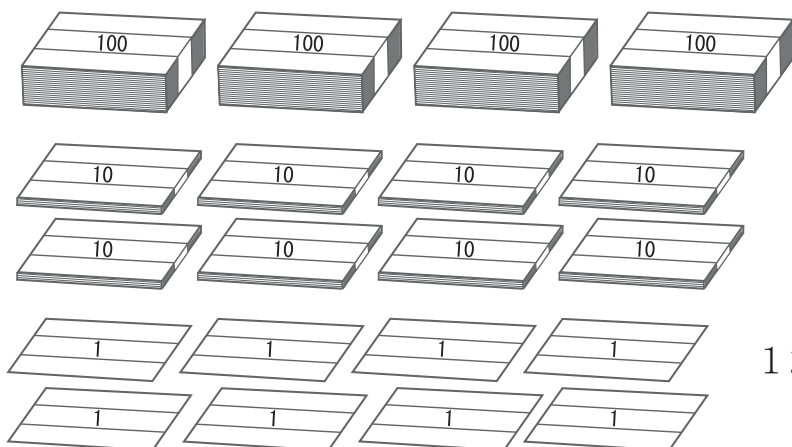
なまえ
名前

問

がようし 画用紙がたくさんあります。ぜんぶで なん 何まいありますか。

にあてはまる かず か 数を書き こと 答えましょう。

1



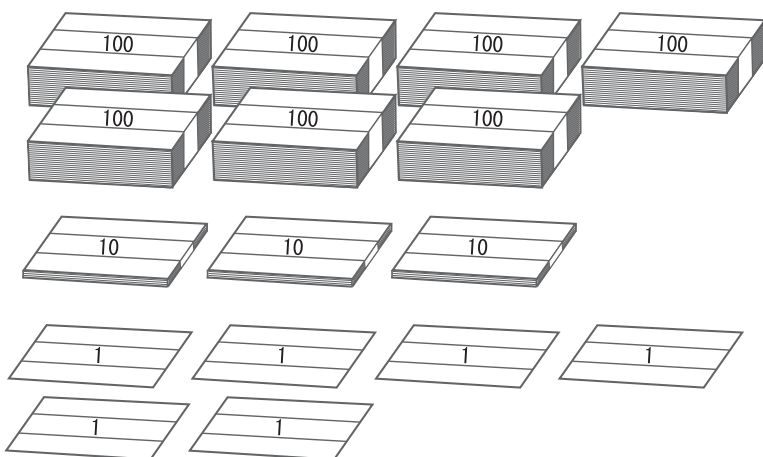
100のたばが つ

10のたばが つ

1まいの がようし 画用紙が つ

あわせて まい

2



100のたばが つ

10のたばが つ

1まいの がようし 画用紙が つ

あわせて まい