

# 100より大きい数

が	に	じ	ふん	～	じ	ふん
月	日	時	分		時	分
なまえ 名前						

**問** お金を数え  にあてはまる 数を書き 答えましょう。

**1**

	100円玉が <input type="text"/> まい
	10円玉が <input type="text"/> まい
	1円玉が <input type="text"/> まい

ぜんぶ  
全部で    円

**2**

	100円玉が <input type="text"/> まい
	10円玉が <input type="text"/> まい
	1円玉が <input type="text"/> まい

ぜんぶ  
全部で    円

# 100より大きい数

が 月 につ 日 に ち 時 じ 分 ふん ~ 時 じ 分 ふん

な まえ  
名前

**問** お金を数え  にあてはまる **かず** を書き **こた** えましょう。

**1**

	100円玉が <input type="text"/> まい
	10円玉が <input type="text"/> まい
	1円玉が <input type="text"/> まい

ぜんぶ  
全部で    円

**2**

	100円玉が <input type="text"/> まい
	10円玉が <input type="text"/> まい
	1円玉が <input type="text"/> まい

ぜんぶ  
全部で    円

# 100より大きい数

が 月 につ 日 に ち じ 時 じ 分 分

な ま え  
名 前

**問** お金を数え  にあてはまる 数を書き 答えましょう。

**1**

	100円玉が <input type="text"/> まい
	10円玉が <input type="text"/> まい
	1円玉が <input type="text"/> まい

ぜんぶ  
全部で    円

**2**

	100円玉が <input type="text"/> まい
	10円玉が <input type="text"/> まい
	1円玉が <input type="text"/> まい

ぜんぶ  
全部で    円

# 100より大きい数

が 月 日 時 分 ~ 時 分

なまえ  
名前

**問** お金を数え  にあてはまる 数を書き 答えましょう。

**1**

	100円玉が <input type="text"/> まい
	10円玉が <input type="text"/> まい
	1円玉が <input type="text"/> まい

ぜんぶ  
全部で    円

**2**

	100円玉が <input type="text"/> まい
	10円玉が <input type="text"/> まい
	1円玉が <input type="text"/> まい

ぜんぶ  
全部で    円





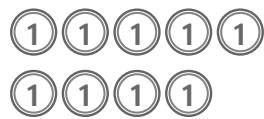
# 100より大きい数

が 月 日 時 分 ~ 時 分

なまえ  
名前

**問** お金を数え  にあてはまる **かず** を書き **こた** えましょう。

**1**

	100円玉が <input type="text"/> まい
	10円玉が <input type="text"/> まい
	1円玉が <input type="text"/> まい

ぜんぶ  
全部で    円

**2**

	100円玉が <input type="text"/> まい
	10円玉が <input type="text"/> まい
	1円玉が <input type="text"/> まい

ぜんぶ  
全部で    円